

ESCOLA MUNICIPAL IRMÃ FILOMENA RABELO

DISCIPLINA: GEOGRAFIA

PROFESSOR: RODRIGO PÜTTOW

TURMAS: 7º ANO 1 2 3 4

Treze Tílias/SC, 26 de maio de 2020.

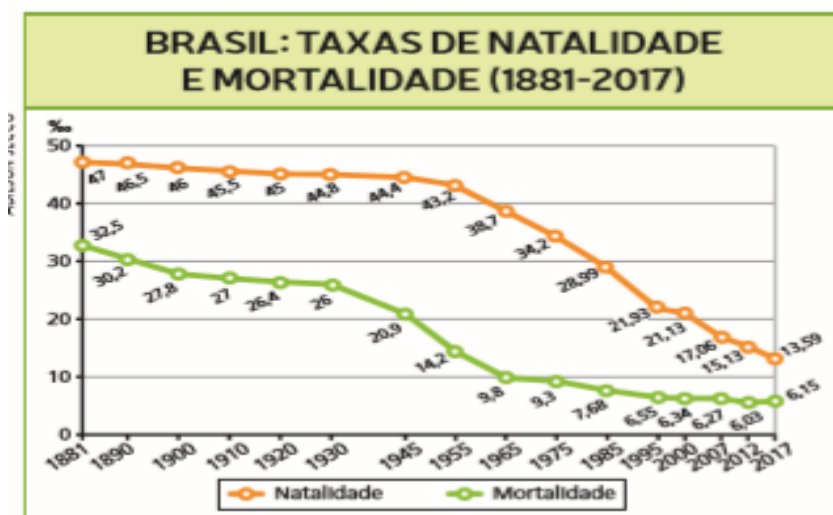
ATIVIDADE 06

Olá turma! Tudo bem? Não é necessário copiar/imprimir os textos e mapas. Só se vocês têm como, mas as perguntas sim, devem copiar no caderno não esquecendo a data.

Ainda trabalhando sobre a formação do território brasileiro, hoje vamos começar a ver outros aspectos do nosso país, começando pela população brasileira.

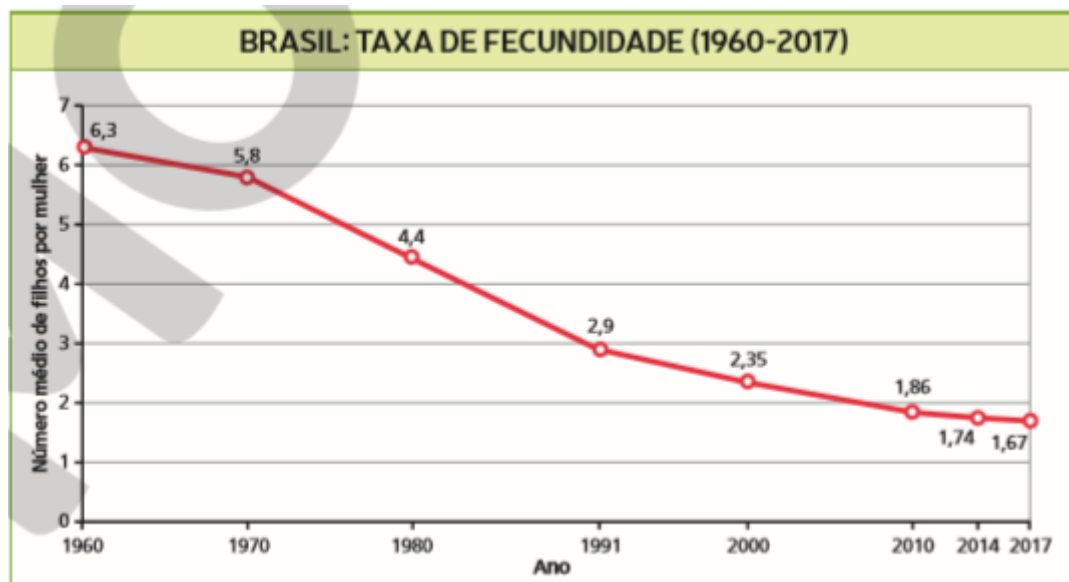
Você já ouviu falar em **Natalidade** e **Mortalidade**? Vamos entender então.

O crescimento natural ou vegetativo de uma população é determinado pela diferença entre as taxas de natalidade e de mortalidade. A taxa de natalidade representa o número de nascimentos em cada grupo de mil habitantes, em determinado período. Assim, uma taxa de natalidade de 4‰ (lê-se quatro por mil) indica que houve quatro nascimentos para cada mil habitantes. A taxa de mortalidade representa o número de óbitos em cada grupo de mil habitantes em determinado período. A taxa de mortalidade infantil refere-se somente aos óbitos de crianças com até 1 ano de idade por mil nascidos vivos. Quando a população de um país cresce, significa que a taxa de natalidade é superior à taxa de mortalidade, descontados os movimentos migratórios.



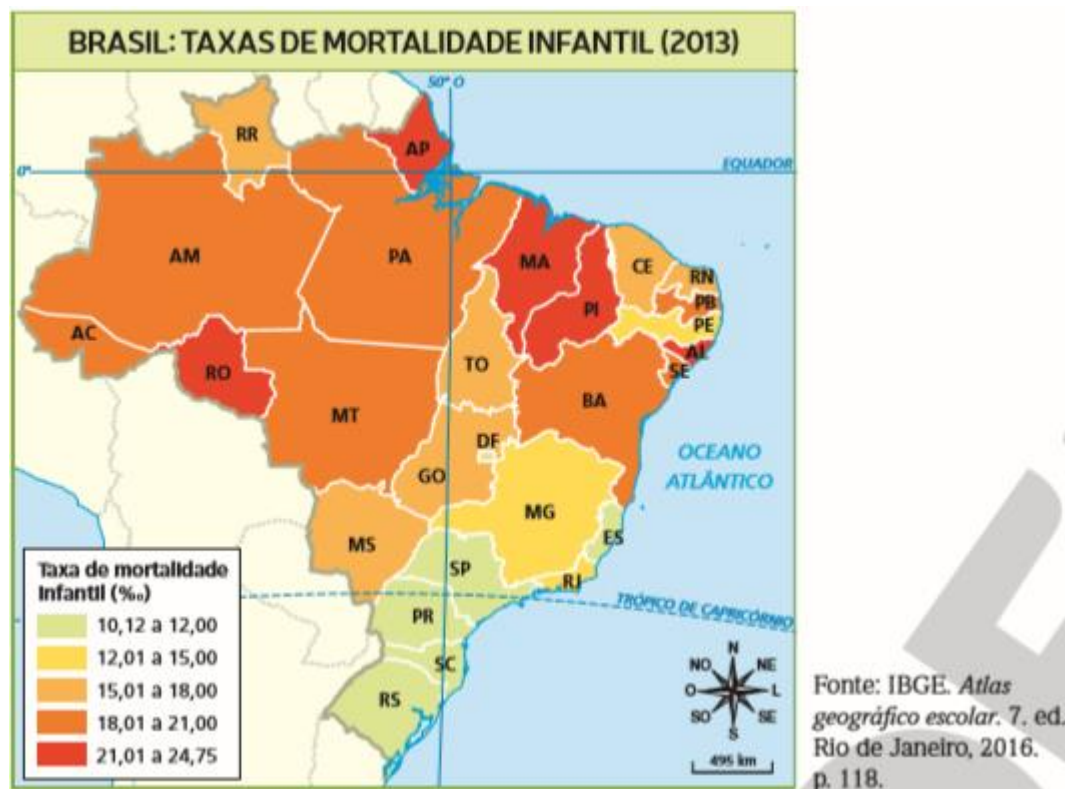
Crescimento populacional em queda

Nas últimas décadas, a popularização de métodos anticoncepcionais, o aumento da participação das mulheres no mercado de trabalho (que levou muitas a adiar a maternidade por priorizar sua carreira profissional) e o planejamento familiar contribuíram para a diminuição da taxa de natalidade e fecundidade da população brasileira. A taxa de fecundidade indica o número médio de filhos por mulher (considerando mulheres entre 15 e 49 anos).



MAPAS DE TAXAS DE FECUNDIDADE E MORTALIDADE INFANTIL NO BRASIL

O mapa a seguir demonstra as taxas de mortalidade infantil por estado, calculadas com base no número de óbitos de crianças com até 1 ano a cada mil nascidos vivos. Trata-se de um importante indicador demográfico para avaliar a qualidade de vida da população.



Veja que o mapa adotou a variável visual cor, com diferentes tonalidades para demonstrar índices expressos em porcentagens, facilitando a visualização do fenômeno.

- 1) Cite os estados com a maior taxa de mortalidade no Brasil.
- 2) Na região onde moramos qual é a taxa da mortalidade infantil?
- 3) Nas últimas décadas, qual sua opinião sobre este fenômeno?