

Escola Municipal Irmã Filomena Rabelo

Treze Tílias, 29 de junho de 2020

Prof.: Marciano A. Pereira

Aluno(a): \_\_\_\_\_ ano/turma: \_\_\_\_\_

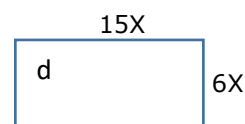
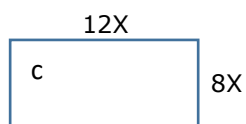
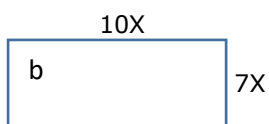
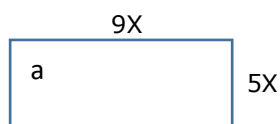
### ATIVIDADE 10

AULA DE MATEMÁTICA REFERENTE À 5ª SEMANA DE JUNHO (29/06 - 03/07) – 8ºANOS

#### ORIENTAÇÕES:

- 1) **ESSA ATIVIDADE DEVERÁ SER ENTREGUE ATÉ às 22:00 horas do DIA 03/07 – SEXTA-FEIRA.**
- 2) **EMAIL: [mat.profmarciano@gmail.com](mailto:mat.profmarciano@gmail.com)**
- 3) **APRESENTAR PASSOS DA RESOLUÇÃO CONFORME ORIENTAÇÕES DAS AULAS 08 e 09.**
- 4) **NÃO ME RESPONSABILIZO POR RESOLUÇÕES FORA DO PADRÃO, EM BRANCO, SÓ RESPOSTA.**

1) EM CADA CASO CALCULE O PERÍMETRO DO RETÂNGULO. **OBS: O X PODE SER TROCADO PELO VALOR 8 EM TODAS.**

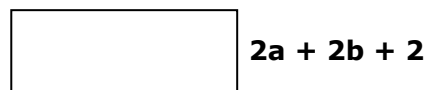


2) CALCULE A **EXPRESSÃO ALGÉBRICA** E O **VALOR FINAL** DO PERÍMETRO: **USE EM TODAS**  $a = 8$  ;  $b = 5$ .

a)  $2a + 2b + 3$



b)  $4a + 3b + 3$




c)  $5a + 3b + 5$



d)  $4a + 3b + 4$



e)  $6a + 5b + 7$



f)  $7a + 4b + 6$

