

ATIVIDADE 16

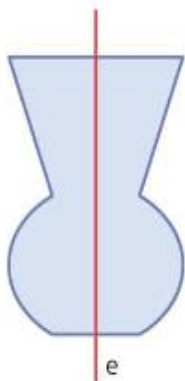
AULA DE MATEMÁTICA REFERENTE À 4ª SEMANA DE AGOSTO (24-28) – 7º ANOS

GABARITO ATIVIDADE 15: 1) a - 2) d

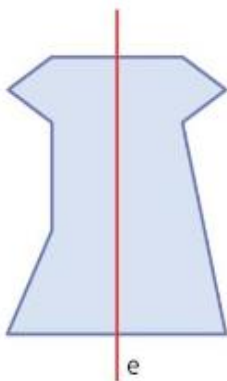
NÃO É NECESSÁRIO ENVIAR FOTO DA ATIVIDADE

1) Em quais itens o eixo **e** representa um eixo de simetria da figura?

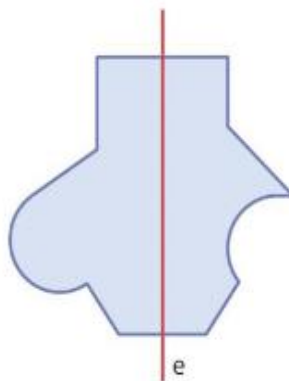
a)



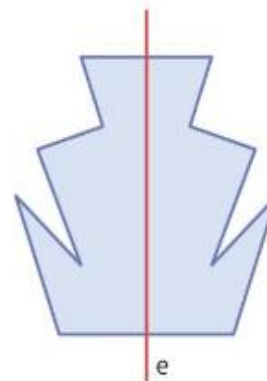
b)



c)

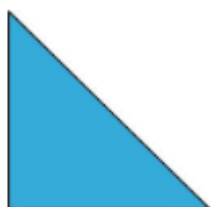


d)



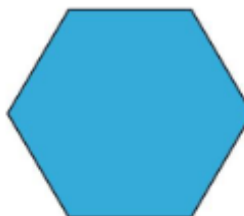
2) Observe os polígonos (figuras) abaixo:

I)



Triângulo retângulo isósceles.

III)




Hexágono regular.

Determine :

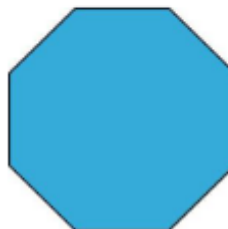
a) a que não possui eixo de simetria

II)



Pentágono irregular.

IV)



Octógono regular.

b) a que possui apenas um eixo de simetria

3) Entre as letras **A, B, C, D, E, F, G, H, I, J, K, L, M, N, O**, quais têm eixo de simetria? (LEMBRE: eixo de simetria divide a letra em duas partes iguais)

Desenhe os eixos nas letras que o representam.