






EJA - ENSINO DE JOVENS E ADULTOS
 SIBILA PARISOTTO
 Treze Tílias, de de 2020.
 Diretora: Nelceni Surdi.
 Professora: Fabiana Barbosa
 Aluno(a).....

- SEGUIE ATIVIDADES PARA SEMANA DE “ISOLAMENTO SOCIAL” (07 A 11 DE SETEMBRO).
- COPIAR E RESOLVER NO CADERNO.
- NÃO ESQUECER DE COLOCAR A DATA.
- BONS ESTUDOS!

OBSERVE O QUADRO ABAIXO:

O QUADRO MOSTRA A PRODUÇÃO DE UMA FÁBRICA DE BRINQUEDOS NOS MESES DE JANEIRO E FEVEREIRO.

			
JANEIRO	134	176	225
FEVEREIRO	292	276	246

1- QUAL O BRINQUEDO QUE FOI MAIS PRODUZIDO NO MÊS DE:

JANEIRO: _____

FEVEREIRO: _____

2- QUANTOS CARRINHOS FORAM PRODUZIDOS NO TOTAL?

3- QUANTAS BONECAS FORAM PRODUZIDAS NO TOTAL?
