

Treze Tílias, 19 de outubro de 2020.

Língua Portuguesa

Você tem ou já ouviu falar em diário pessoal?



Querido diário,



Mamãe deu aquela ordem de novo: "Já pra cama, mocinha. Desliga a televisão!". Eu não concordo com essa mania dos pais de quererem comandar os horários dos filhos dormirem. Ela diz que é porque eu estudo cedo e, se for dormir tarde, posso perder a hora. Conversa de mãe!

Eu NUNCA cheguei atrasada na escola. Além disso, sou muito responsável e não é todo dia que eu quero dormir tarde.

Mas minha mãe é dura na queda! Ela tem argumento pra tudo. Diz que quando eu durmo tarde acordo mal-humorada, tomo café corvando e acabo ficando com sono na escola. E tem mais: diz que toda criança tem necessidade de pelo menos oito horas de sono para recuperar o corpo e crescer. E ainda fala: "Dormir bem é bom para a memória!".

Queridíssimo diário, eu tenho culpa se passa um montão de programas legais depois das 10? Na minha opinião, os pais deveriam deixar os filhos se responsabilizarem mais pelas suas vidas. Seria bom se eles parassem de pensar que a gente é grande pra umas coisas e pequena para outras.

Bom-noite!



1- Vimos no modelo da página anterior, um exemplo de diário. Agora é sua vez de relatar algum dia da semana que foi muito importante para você.



The page is a template for a diary entry. It features a central white area with horizontal lines for writing, set against a brown dotted background. The writing area is framed by a white scalloped border. Decorative elements include a brown bear sitting next to a red mushroom with white spots in the top left corner, a small brown bear standing in the bottom right corner, and several mushrooms and autumn leaves scattered around the page. The text at the top of the page reads: "1- Vimos no modelo da página anterior, um exemplo de diário. Agora é sua vez de relatar algum dia da semana que foi muito importante para você."

Treze Tílias, 20 de outubro de 2020.

Matemática

Resolva com atenção!

$$\begin{array}{r} 149 \\ + 429 \\ \hline \end{array}$$

$$\begin{array}{r} 644 \\ + 127 \\ \hline \end{array}$$

$$\begin{array}{r} 135 \\ + 128 \\ \hline \end{array}$$

$$\begin{array}{r} 631 \\ + 127 \\ \hline \end{array}$$

$$\begin{array}{r} 426 \\ + 255 \\ \hline \end{array}$$


$$\begin{array}{r} 457 \\ - 139 \\ \hline \end{array}$$

$$\begin{array}{r} 743 \\ - 127 \\ \hline \end{array}$$

$$\begin{array}{r} 578 \\ - 145 \\ \hline \end{array}$$

$$\begin{array}{r} 983 \\ - 127 \\ \hline \end{array}$$

$$\begin{array}{r} 365 \\ - 129 \\ \hline \end{array}$$



História e geografia

Em nossa cidade existem vários bairros. Dentro deles, existem ruas. Essa divisão serve para organizar melhor a cidade em que vivemos, facilitando a entrega de correspondências e mercadorias.

- Hora da pesquisa!

Pesquise com a ajuda de seus pais os nomes dos bairros de Treze Tílias e identifique o bairro em que você mora.

Treze Ilhas, 21 de outubro de 2020.

Língua Portuguesa

Ortografia

- Complete a palavra com G ou J, marque a coluna certa e reescreva.



Palavra	g	j	Reescrita
ferru _ em			
fu _ ir			
ma _ estade			
_ inástica			
reló _ io			
can _ ica			
_ irafa			
_ iló			
berim _ ela			
gor _ eta			
gara _ em			
_ eito			
tra _ e			
colé _ io			
ori _ em			
man _ ericão			
pa _ é			
va _ em			

DESAFIANDO

ESTOU ANTES DO
35.

ESTOU ENTRE O
79 E O 81.

SOU A SOMA DE
12 E 45.

REPRESENTO AS
PATAS DE 2
GATINHOS
JUNTOS. _____

CADA ACERTO
VALE UM PONTO!

SOU A
DIFERENÇA
ENTRE 23 E 13.

SOU A METADE
DE MEIA DÚZIA.



REPRESENTO TRÊS
DEZENAS E 9
UNIDADES.

REPRESENTO
UMA DEZENA.

SOU O DOBRO DE
7.

SOU O SUCESSOR
DE 89.

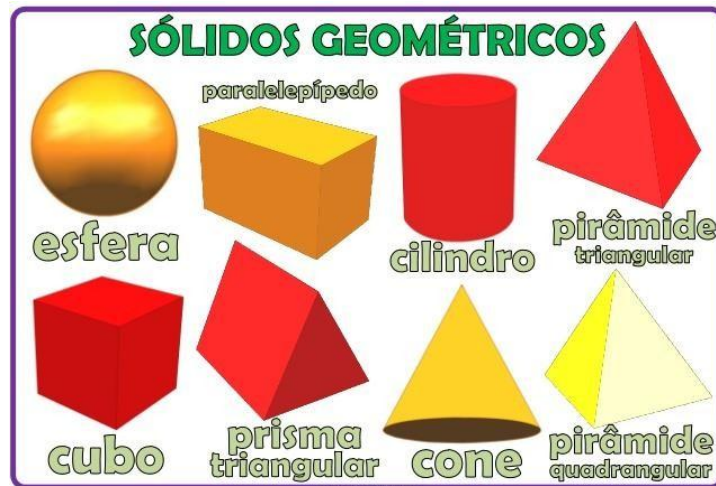
SOU O
ANTECESSOR DE
100.

Treze Tílias, 22 de outubro de 2020.


Matemática

Sólidos geométricos

Você conhece ou lembra-se de algum desses sólidos geométricos?

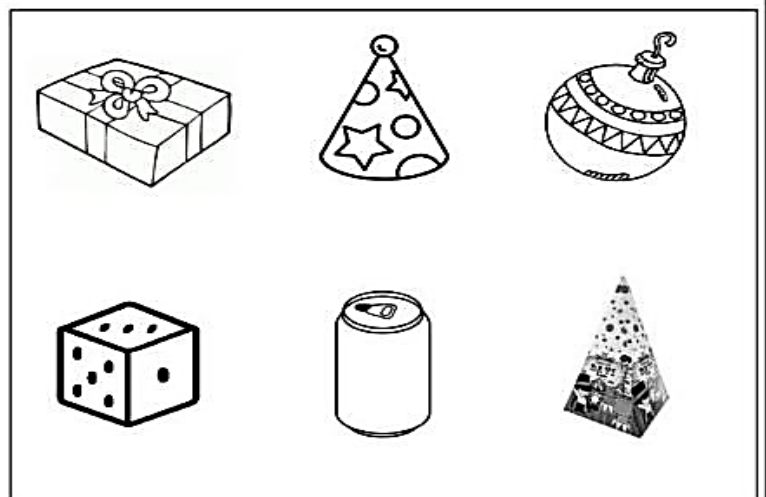



SÓLIDOS GEOMÉTRICOS



OS SÓLIDOS GEOMÉTRICOS SÃO OBJETOS TRIDIMENSIONAIS, OU SEJA, QUE POSSUEM TRÊS DIMENSÕES: ALTURA, COMPRIMENTO E LARGURA.

A PROFESSORA DE PEDRO PASSOU UMA TAREFA DE CASA SOBRE OS SÓLIDOS GEOMÉTRICOS. ELE TEVE QUE PESQUISAR 6 (SEIS) TIPOS DE SÓLIDOS GEOMÉTRICOS E LEVAR 6 (SEIS) OBJETOS QUE TIVESSEM A MESMA FORMA DELES. OBSERVE OS SÓLIDOS QUE ELE PESQUISOU E OS OBJETOS QUE ELE SELECIONOU:



1- Seguindo as orientações abaixo, pinte na página anterior:

a) O cubo de amarelo.

b) A esfera de verde.

c) A pirâmide de vermelho.

d) O cone de laranja.

e) O paralelepípedo de azul.

f) O cilindro de rosa.

2- Comece e efetue:

a) $200 \times 3 =$

b) $840 \times 4 =$

c) $720 \times 5 =$

d) $20 : 5 =$

e) $45 : 5 =$

f) $24 : 3 =$

Cálculos!

Treze Tílias, 23 de outubro de 2020.

Sexta-feira!

Dia de colocar as atividades em dia, fotografar e enviar aos professores. Fique atento à leitura do dia e não se esqueça de estudar a tabuada! Obedeça ao papai e a mamãe quando estiverem orientando sua atividade. Um excelente fim de semana e um abraço carregado de saudades!

