

ORIENTAÇÕES GERAIS- 4º ANO – 26 A 30 DE OUTUBRO

- QUALQUER DÚVIDA ENTRAR EM CONTATO COM A PROFESSORA PELO GRUPO DE PAIS NO WHATSAPP OU NO PARTICULAR;
- O ALUNO (A) DEVERÁ TER AS ATIVIDADES NO CADERNO, NÃO SE ESQUEÇA DE COLOCAR DATA. AO FINAL DA REALIZAÇÃO DE TODAS AS ATIVIDADES, AS MESMAS DEVEM SER FOTOGRAFADAS NA VERTICAL PARA MELHOR VISUALIZAÇÃO E ENVIADAS PARA O E-MAIL DA RESPECTIVA PROFESSORA.
- ADRIANA PADILHA (4º ANO 1 E 3) 4.profadriana@gmail.com
- ALINE VIANA (4º ANO 4) 4.profaline@gmail.com
- DULCE RABUSKI (4º ANO 2) 4.profdulce@gmail.com

ATIVIDADE 1 e 2 LÍNGUA PORTUGUESA: REVISÃO DA SEMANA PASSADA.

1. Observe as figuras e escreva o nome correspondente como no primeiro exemplo.



LAGARTIXA











2. Todas as palavras que você escreveu têm a letra **X**. Qual é o som representado pela letra **x** nessas palavras?

() **S** () **Z** () **CH**

3. Leia em voz alta as palavras do quadro:

EXERCÍCIO	EXPERIÊNCIA	EXTRATO	CAIXA	EXTINÇÃO	ENXAGUAR
	EXAME	QUEIXO	EXPOSIÇÃO	EXÉRCITO	

- ESCRIBA AS PALAVRAS DO QUADRO ACIMA NAS COLUNAS ABAIXO DE ACORDO COM O SOM DO X:

X COM SOM DE S	X COM SOM DE Z	X COM SOM DE CH

4. Observe as palavras que você escreveu. A letra **X** com som de **S** ocorre em que parte da sílaba?

() No início da sílaba () No final da sílaba () No meio da sílaba

a) Após a letra **X** com som de **S** aparece uma vogal ou uma consoante?

b) A letra **X** com som de **Z** aparece entre vogais ou consoantes?

c) Que letras aparecem antes do **X** quando soa como **CH**?

ATIVIDADE 3 - MATEMÁTICA: PROBLEMAS - FAÇA OS CÁLCULOS COM BASTANTE ATENÇÃO:

1- Uma loja recebeu 7 computadores e pagou por eles um total de 5635 reais. Quanto custou cada computador?

() 85 reais () 805 reais () 8500 reais

2- Maria é fotógrafa. Em 8 dias produziu 1624 fotos, tirando o mesmo número de fotos por dia. Quantas fotos ela tirou por dia?

() 201 fotos () 202 fotos () 203 fotos

3- Seu José vai trocar no banco 1525 reais em notas de 5 reais. Quantas notas ele vai receber?

() 305 notas () 3050 notas () 3500 notas

4- Efetue as divisões:

a) $1216 : 2 =$

b) $3658 : 6 =$

c) $5636 : 7 =$

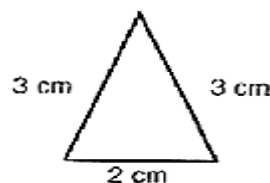
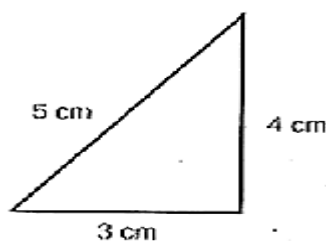
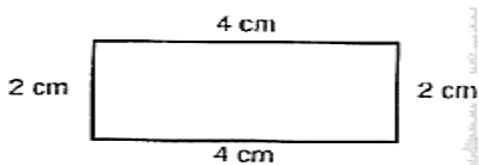
d) $3224 : 4 =$

e) $4025 : 5 =$

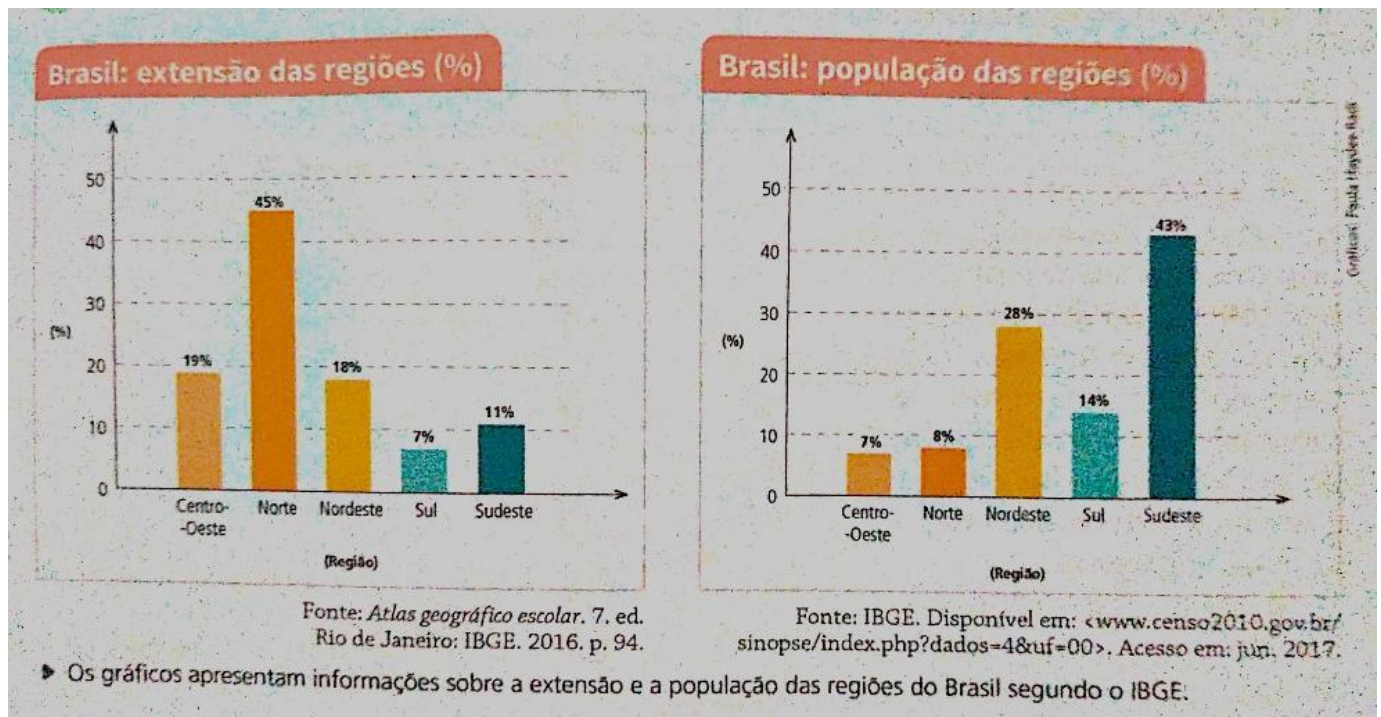
f) $5484 : 9 =$

5- Calcule o perímetro dos seguintes figuras:

LEMBRE-SE: PERÍMETRO É A SOMA DE TODOS OS LADOS.



ATIVIDADE 4 DE GEOGRAFIA E HISTÓRIA: RECORTE A FIGURA ABAIXO, COLE EM SEU CADERNO E DEPOIS COPIE E RESPONDA AS QUESTÕES.



- a) O que as colunas de cada gráfico representam?
- b) Observe os dois gráficos, a região de maior extensão também é a de maior população? Justifique sua resposta.
- c) Com base nas dicas, descubra em qual região moram as pessoas:
- Moro na região conhecida como a mais fria do Brasil. _____.
 - Na região onde moro está a Floresta Amazônica. _____.
 - Na região onde moro há muito turismo e se localiza a linda cidade de Fortaleza, também é conhecida por ser um lugar seco e quente. _____.
 - Moro na região mais populosa do Brasil com muitas indústrias. _____.
 - Na região onde moro não há mar e se localiza a capital do Brasil. _____.



ATIVIDADE 5 CIÊNCIAS Revisão do conteúdo Saúde Pessoal e Coletiva.

A vacinação não apenas protege aqueles que recebem a vacina, mas também ajuda a comunidade como um todo. Quanto mais pessoas de uma comunidade ficarem protegidas, menor é a chance de qualquer uma delas – vacinada ou não – ficar doente.

1- Leia o texto a seguir e responda:

a) A vacinação é considerada uma medida de saúde coletiva. Copie no caderno o trecho do texto que mostra isso.

b) Que doenças você conhece que podem ser combatidas com vacinação?

c) Ter bons hábitos de higiene e uma boa alimentação e participar das campanhas de vacinação são cuidados que ajudam a manter a saúde. Que outras ações você pratica para cuidar bem de sua saúde e manter o seu bem - estar?

2- Durante todo o ano, são vinculadas pelos meios de comunicação campanhas realizadas pelo governo de prevenção de doenças. Observe o exemplo.



- Que doença a campanha pretende combater?
- Que medidas o cartaz sugere que sejam tomadas para evitar a doença?
- Em sua opinião, por que você deve tomar todas estas medidas de prevenção? Você considera essas atitudes importantes. Justifique sua resposta.

TRABALHANDO COM TIRINHAS



1- Este texto é uma:

fábula

carta

tirinha

2- Os personagens deste texto são:

Cebolinha e Mônica

Maqali e Cebolinha

Cascão e sua mãe

Chico Bento e Mônica

3- O que significa estes sinais gráficos? 

pintas da cerâmica

pés de gato

rasto de cachorro

as mãos de Cascão

4- A causa das marcas no chão foi porque....

a mãe não limpou o chão direito

o Cascão não toma banho e fica com as mãos sujas.

5- O que você acha desta atitude de Cascão de entrar com as mãos no chão, ao invés de ser com os pés?

ATIVIDADE 6 LÍNGUA PORTUGUESA: ESTUDANDO OS VERBOS.

1. CIRCULE OS VERBOS DAS FRASES ABAIXO:

- a) Os meninos brincavam com a bola.
- b) Papai me chamou para passear no parque.
- c) Entrei, falei com o diretor.
- d) Ao sentir as patadas, o lobo correu.
- e) Tu és forte, és corajoso e conheces tudo.
- f) A borboleta tem asas coloridas.

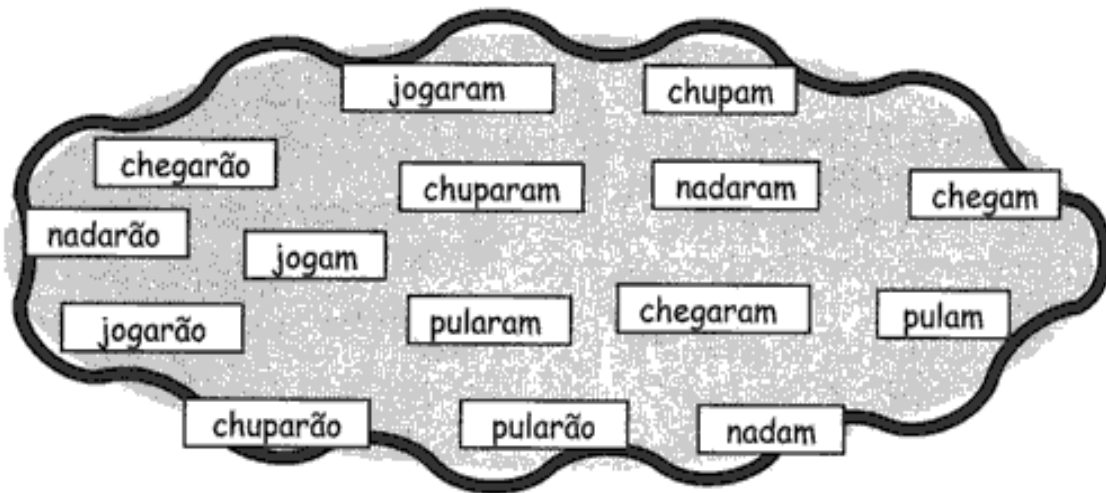
ATIVIDADE 7 MATEMÁTICA:

Vamos revisar as multiplicações, arme as continhas e resolva no espaço abaixo:

- a) $2\ 354 \times 3 =$
- b) $456 \times 6 =$
- c) $1\ 578 \times 8 =$
- d) $768 \times 9 =$
- e) $3\ 085 \times 7 =$

ATIVIDADE 8 LÍNGUA PORTUGUESA:

Descubra o segredo e continue:



VERBOS

PRESENTE	PASSADO	FUTURO
nadam	nadaram	nadarão
_____	_____	_____
_____	_____	_____
_____	_____	_____
_____	_____	_____
_____	_____	_____

Procure no caça-palavras abaixo verbos que você selecionou:

C	H	E	G	A	M	V	C	H	U	P	A	M
T	J	O	G	A	R	Ã	O	F	D	G	P	B
N	D	F	P	U	L	A	R	Ã	O	E	U	P
A	N	A	D	A	R	Ã	O	K	Y	Z	L	U
D	K	U	C	H	E	G	A	R	A	M	A	L
A	C	H	E	G	A	R	Ã	O	M	B	R	A
M	J	C	H	U	P	A	R	Ã	O	L	A	M
Z	X	C	V	C	H	U	P	A	R	A	M	D
C	J	O	G	A	R	A	M	B	E	I	O	G
N	A	D	A	R	A	M	B	J	O	G	A	M

