

Treze Ilíias, 16 de novembro de 2020.

Português

A MENINA NOTA DEZ

Camila estuda numa boa escola.

A matéria de que ela mais gosta é Matemática.

Toda vez que um colega tem dúvida, Camila pede a professora Carla que a ajude.

A professora Carla deixa, mas fica por perto.

Camila ajuda a todos com a maior paciência!

Sua professora diz:

— É isso aí, Camila, você é uma aluna nota 10!

Os alunos batem palmas para Camila.

Eles a amam muito.



1) Qual é o nome da história?

2) O que Camila pede à professora ?

3) O que Camila faz com maior paciência?

4) O que a professora Carla diz à Camila?

Qual a matéria de que Camila mais gosta?

Ciências.

Matemática.

Artes.

5) É você, qual a sua matéria preferida? _____

6) Retire do texto 5 palavras dissílabas:

7) Forme frases com as seguintes palavras:

a) Escola: _____

b) Amigos: _____

c) Professora: _____

8) Separe as sílabas das palavras abaixo:

a) Camila: _____

b) matéria: _____

c) professora: _____

d) paciência: _____

e) dúvida: _____

9) Retire do texto 2 substantivos próprios:

10) Reescreva em ordem alfabética as seguintes palavras: escola – professora – Camila – matemática – alunos – estudar – paciência

Treze Tílias, 17 de novembro de 2020.

Matemática

Histórias matemáticas

◆ Complete os balões e depois faça as operações.

Operação

Tenho uma nota de _____
e outra de _____.



Mariana tem

Tenho duas notas de _____
e João uma nota de _____.



Operação

Os dois têm juntos

Operação

Eu tenho uma moeda de _____ e
Renata tem outra moeda de _____.

Quanto têm as duas juntas?



Henrique tem uma nota de _____
e perdeu _____.



Operação

Com quanto Henrique ficou?

História e Geografia


Compreendendo um pouco mais sobre o nosso município...

NOME

Amorecastro.com.br

Atividades de Geografia

Já sabemos que o município é uma unidade administrativa que é organizado em duas zonas; zona rural e zona urbana. Possui uma sede e uma estrutura de poder público para atender suas necessidades específicas. Cada município tem um prefeito e uma Câmara de Vereadores, que são os responsáveis pelo cumprimento e elaboração das leis.



- Responda.

1 - Quem governa o município?

2 - Qual é o nome do prefeito de seu município?

3 - Como são escolhidos o prefeito e os vereadores do município?

4 - Como se chama a pessoa que vota?

5 - Qual é o documento necessário para votar?


Treze Tílias, 18 de novembro de 2020.

Matemática

Sistema monetário

Pesquisando preços

◆ Vá ao supermercado mais próximo de sua casa, pesquise os preços das mercadorias e anote-os abaixo:



• Qual é a mercadoria mais cara? _____

• E a mais barata? _____

◆ Escolha três destas mercadorias, faça a adição e veja o total!

Nome do produto	Preço
_____	_____
_____	_____
_____	_____
Total	_____

Observação: a pesquisa de preços poderá ser feita com o seu responsável, caso não possa ir ao mercado.

Treze Tílias, 19 de novembro de 2020.

Português

AR, ER, IR, OR, UR

1. Ordene as sílabas e forme palavras.

a) DO MER CA

d) NA COR TI

b) LA AR GO

e) ME FIR ZA

c) CUR CON SO

f) NHA DI SAR

2. Acrescente **r** entre as sílabas e forme outras palavras, como no exemplo.

a) uso urso

b) pote _____

c) lago _____

d) cota _____

e) fada _____


f) ama _____

g) cata _____

h) maço _____

i) Eva _____

j) pena _____



PORTA

Matemática

1) Calcule e efetue:

a) $200 - 186 =$

b) $1120 - 800 =$

c) $3500 + 560 =$

d) $999 + 111 =$

e) $123 \times 3 =$

f) $580 \times 4 =$

g) $242 \times 5 =$

h) $25 : 5 =$

i) $69 : 7 =$

j) $35 : 6 =$

Espaço para cálculos:

Treze Tílias, 20 de novembro de 2020.

Sexta-feira!

Dia de deixar as atividades em dia,
enviá-las aos professores e estudar a tabuada.

Curiosos para saber a leitura do dia?

Aguardem...



QUE O FINAL DE SEMANA
SEJA DE PAZ, AMOR E
TRANQUILIDADE!