

ATIVIDADE 29

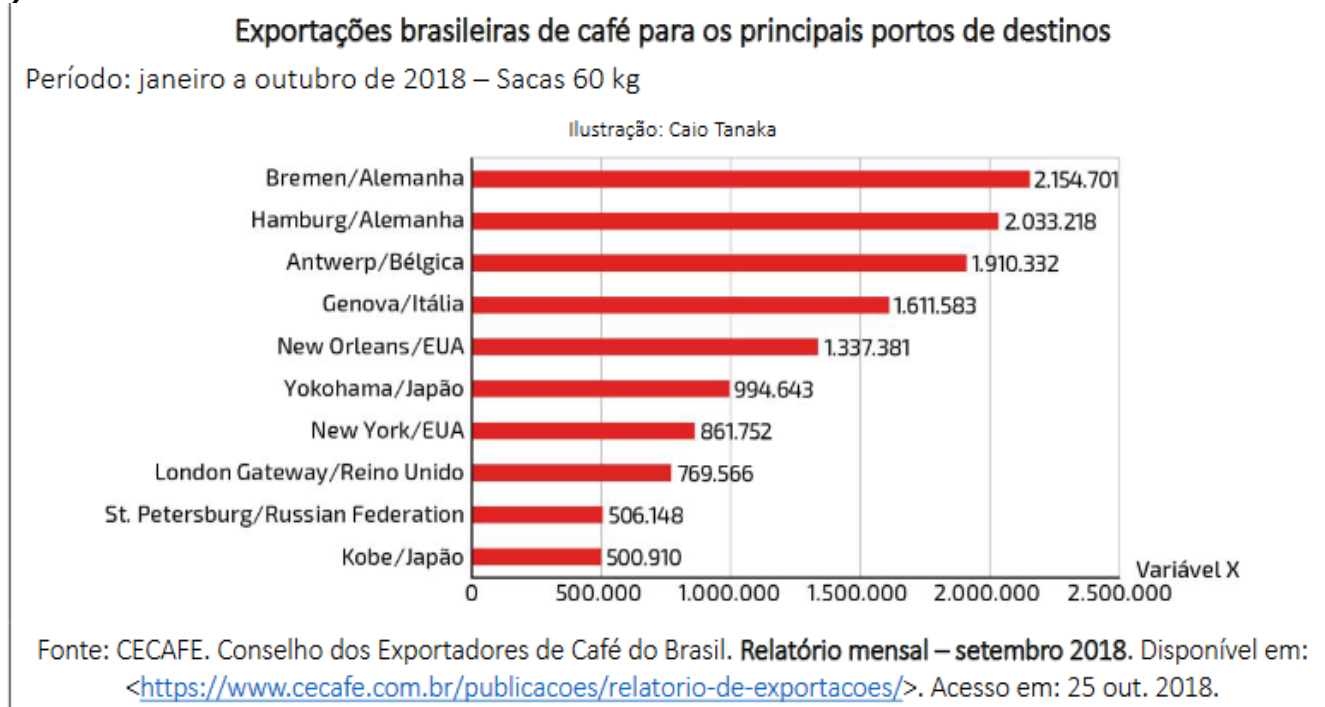
AULA DE MATEMÁTICA REFERENTE À 3ª SEMANA DE DEZEMBRO (14-18) – 3º TRIMESTRE – 8º ANOS

TÓPICO DE ESTUDO: TRATAMENTO DA INFORMAÇÃO – INTERPRETAÇÃO DE GRÁFICOS

Gráficos são representações visuais utilizadas para exibir dados, sejam eles, sobre determinada informação, ou valores numéricos.

Compreender os gráficos hoje em dia é uma tarefa essencial, pois eles estão muito presentes em nosso cotidiano, seja nos jornais, revistas, internet, etc.

1) GRÁFICO DE BARRAS



a) Qual o 3º maior comprador de café?

b) Qual o país que menos comprou café?

2) GRÁFICO DE LINHAS

ESCALADA DA MOEDA AMERICANA EM 2015

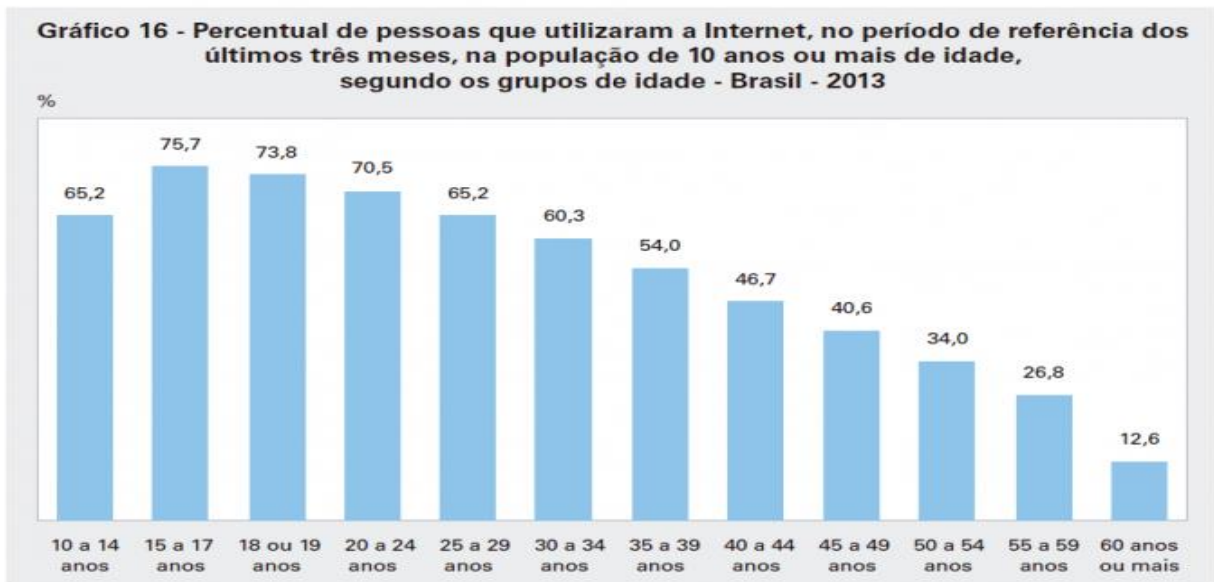
COTAÇÃO DO DÓLAR COMERCIAL NO ÚLTIMO DIA ÚTIL DE CADA MÊS



a) Qual mês de menor cotação?

b) Qual a variação de janeiro a fim de setembro?

3) GRÁFICO DE COLUNAS

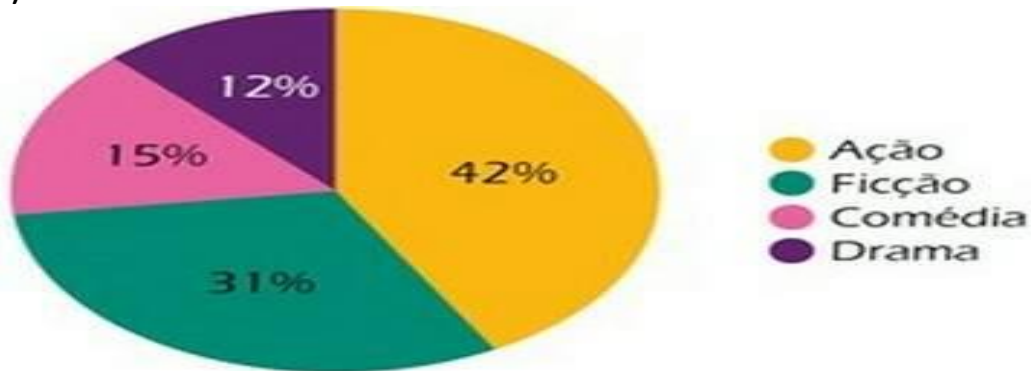


Fonte: IBGE, Diretoria de Pesquisas, Coordenação de Trabalho e Rendimento, Pesquisa Nacional por Amostra de Domicílios 2013.

a) Qual faixa etária mais usa internet?

b) Qual faixa etária menos usa internet?

4) GRÁFICO DE SETORES OU PIZZA - PREFERÊNCIA POR FILMES



a) Qual estilo é mais assistido?

b) Qual o estilo está em 3º lugar?

MENSAGEM DE FIM DE ANO

Alunos e pais, chegamos ao fim de mais um ano letivo. Foi um ano diferente, com muitos desafios, mas estamos de parabéns!

Acredito que dentro do possível, conseguimos formar uma equipe que caminhou na direção que realmente importa: a aprendizagem dos alunos.

Boas férias a todos!